

ESTATUTO DA CRIANÇA E DO ADOLESCENTE

01. Leia com atenção o texto seguinte:

“Art. 5.º - Nenhuma criança ou adolescente será objeto de qualquer forma de negligência, discriminação, exploração, violência, crueldade e opressão, punido na forma da lei qualquer atentado, por ação ou omissão, aos seus direitos fundamentais.”

De acordo com o texto, será **punido** na forma da lei:

- A) a criança e o adolescente.
- B) qualquer forma de negligência.
- C) a discriminação, a exploração, a crueldade e a opressão.
- D) qualquer atentado por ação ou omissão aos direitos da criança e do adolescente.
- E) os direitos fundamentais de nenhuma criança ou adolescente.

02. Leia o texto com atenção.

“Art. 19. Toda criança ou adolescente tem direito a ser criado e educado no seio da sua família e, excepcionalmente, em família substituta, assegurada a convivência familiar e comunitária, em ambiente livre da presença de pessoas dependentes de substâncias entorpecentes.”

Esse artigo garante à **criança** e ao **adolescente**:

- A) sempre viver somente com a família.
- B) viver sempre em família substituta, desde que assegurada a convivência familiar e comunitária.
- C) viver na própria família e em casos especiais em família substituta.
- D) toda família de criança ou de adolescente deve estar livre da dependência de substâncias entorpecentes.
- E) é sempre assegurada a convivência familiar e comunitária à criança e ao adolescente onde for viver.

LÍNGUA PORTUGUESA

03. Leia com atenção o texto seguinte:

“Curitibanos enfrentam um desafio antigo quando circulam pelas calçadas da cidade: precisam desviar de entulhos, lixo e até de uma cerca. Além do incômodo, os obstáculos comprometem a segurança.”
(CHAVES, Lílian. *Gazeta do Povo*. Curitiba, 21/10/2007, p. 1.)

Assinale a alternativa em que as duas palavras têm o mesmo sentido da palavra **obstáculos**:

- A) dificuldades, bicicletas.
- B) impedimentos, buracos.
- C) embaraços, pedestres.
- D) empecilhos, estorvos.
- E) barreiras, muros.

04. Leia com atenção para entender o sentido do texto.

“A partir desta segunda-feira, motoristas de Curitiba vão enfrentar restrições para estacionamento em mais quatro ruas da região central da cidade.”

(*Gazeta do Povo*. Curitiba, 21/10/2007, p. 10.)

Segundo o texto, em determinado início de semana:

- A) A área para estacionar carros na capital do Paraná vai ser ampliada.
- B) Poderá haver engarrafamentos no trânsito da região central de Curitiba.
- C) A área para estacionar carros em Curitiba vai ficar menor.
- D) Aguarda-se uma grande diminuição de carros nas ruas de Curitiba.
- E) Os estacionamentos particulares terão de sair da área central de Curitiba.

05. Analise o texto seguinte e assinale a alternativa que contém a completa idéia do texto:

“Aos que detestam datas marcadas, porque as consideram exploração comercial, digo que concordo em parte: explora-se a nossa burrice existencial básica, que se submete aos modismos, às propagandas, ao consumismo desvairado.”

(LUFT, Lya. *Veja*, 21/10/2007, p. 28.)

Isso significa que a autora do texto:

- A) Afirma que ao fazermos compras nós somos muito explorados em alguns dias da semana, do mês ou do ano.
- B) Adere parcialmente à idéia de ser contra determinadas datas, porque elas se tornam motivo de exploração comercial.
- C) Afirma que a nossa burrice é básica, porque gostamos de moda, de propaganda e de consumir tudo aquilo que nos atrai.
- D) Diz que muitos não gostam de certas datas: daquelas que estão na moda, nas propagandas e nas quais se consome exageradamente.
- E) É contrária a tudo que é modismo, ao que se encontra nas propagandas e ao que serve ao consumismo desmedido.

06. No texto, observe os termos **opção** e **precárias**.

“Às vezes, uma estrada de terra aparenta ser o caminho mais rápido, mas pode ser a pior opção pelas condições precárias e falta de sinalização.”

(Guia Quatro Rodas, 2007, p. 10.)

Assinale a alternativa que contém o sentido correto dessas duas palavras:

- A) escolha – difíceis
- B) aparência – estreitas
- C) alternativa – perigosas
- D) oferta – esburacadas
- E) possibilidade – escuras

07. Se considerarmos conceitos que aparecem nas gramáticas, como: “**pronome** é a palavra que se usa em lugar do nome” (Silveira Bueno), analise o exemplo:

“Tristeza de guardar um segredo / que todos sabem...”
(Carlos Drummond de Andrade)

Neste caso, o pronome **que** está sendo usado no lugar de palavra ou palavras desse texto:

- A) Tristeza.
- B) guardar.
- C) **segredo.**
- D) todos.
- E) sabem.

08. Quanto à concordância nominal, observe o exemplo:

“Era alta noite. Sombras espessas cobriam as margens do Paraíba.”

(José de Alencar)

As palavras **alta** (um adjetivo) se encontra no feminino singular e a palavra **espessas** (também um adjetivo) se encontra no feminino plural.

Isso se explica, por que ambas estão concordando em gênero e número com:

- A) Era e cobriam, respectivamente.
- B) **noite e sombras, respectivamente.**
- C) Era e margens, alternadamente.
- D) noite e cobriam, alternadamente.
- E) Era alta e cobriam as margens, seqüencialmente.

09. Com referência à concordância verbal, Observe o exemplo:

“As estrelas já desmaiavam com a aproximação do dia.”
(José de Alencar)

Fazendo a devida concordância, preencha os espaços em branco com o verbo **desmaiar** na forma indicada entre parênteses:

- I - As estrelas _____ com o dia. (PRESENTE)
- II - A estrelas não _____ durante a noite. (FUTURO)

Os espaços em branco foram preenchidos, na seqüência, corretamente com:

- A) desmaiando - desmaiarás
- B) desmaiiais - desmaiar
- C) desmaiias - desmaia
- D) **desmaiam - desmaiarão**
- E) desmaia - desmaiaram

10. Com relação ao item do programa coesão textual, estruturação de frase e período complexos, leia os exemplos que seguem retirados do Curso de Atualização para a Renovação da CNH (5. ed. Curitiba: Tecnodata, 2006, p. 5.):

- I - As estatísticas demonstram, a cada ano, são centenas de milhares de acidentes de trânsito Brasil.
- II - São computados dezenas milhares, também, os sobreviventes.
- III - As estatísticas demonstram que, a cada ano, são centenas de milhares de acidentes de trânsito no Brasil.
- IV - São computados em dezenas de milhares, também, os sobreviventes.

Como “um texto é um todo organizado de sentido” (Platão e Fiorin, p. 16), assinale as afirmativas corretas:

Está correta ou estão corretas as afirmativas:

- A) somente I.
- B) somente II.
- C) somente IV.
- D) I e II.
- E) **III e IV.**

11. Quanto à grafia correta, observe os exemplos dos quais foram retiradas consoantes, grupos consonantais ou vogais:

- I – “Estas **declara**_____ões que são a **expre**_____ão sincera dos sentimentos do Governo e do Povo Brasileiro”. (Barão do Rio Branco) – (**ç** ou **ss**)
- II – “Évora! Ruas ermas sob os céus cor de violetas **ro**_____as”. (Florbela Espanca) - (**ch** ou **x**)
- III – “Nenhuma pessoa educada **d**_____rime as suas controvérsias a socos e bengaladas”. (Fidelino de Figueiredo). – (**e** ou **i**)
- IV – “Eu amo a noite solitária e muda... **ma**_____estosa e sentida”. (Gonçalves Dias) – (**j** ou **g**)

Preencha os espaços em branco com as consoantes, grupos consonantais ou vogais que completam a correta grafia das palavras.

A alternativa correta é:

- A) **ç, ss, x, i, j.**
- B) ss, ç, ch, e, g.
- C) ç, ç, x, i, g.
- D) ss, ss, x, e, j.
- E) ç, ss, ch, i, g.

12. Quanto à pontuação de um texto, analise o texto a seguir, do qual foi retirado um sinal de pontuação:

“As ferramentas tecnológicas utilizadas pelo Governo do Estado na área da educação foram os principais atrativos da 3.^a Reunião Ordinária do Conselho Nacional de Secretários de Educação (Consed) realizada na semana passada em Foz do Iguaçu”.

(www.celepar.pr.gov.br/modules/noticias/article. Acesso em 27/09/2007.)

Afirma-se que para o texto tornar-se adequadamente bem pontuado deveria colocar-se:

- A) vírgula depois da palavra **educação**.
B) ponto de exclamação depois da palavra **Iguaçu** para substituir o ponto final que aí se encontra.
C) ponto depois da palavra **(Consed)**.
D) ponto-e-vírgula depois antes da palavra **realizada**.
E) vírgula depois da palavra **(Consed)**.

MATEMÁTICA

13. Você tem R\$ 20.000,00 e pretende comprar um automóvel que custa R\$ 25.320,00. Se o valor do bem permanecer inalterado, por qual período o seu capital deverá ficar aplicado à taxa mensal de 1,9% de juros simples para que você possa efetuar a compra?

- A) 1 ano.
B) 1 ano e 2 meses.
C) 1 ano e 4 meses.
D) 2 anos.
E) 2 anos e 2 meses.

14. A capacidade total do tanque de combustível de um veículo é de 42 litros. Este automóvel faz 12 km/L e a distância média percorrida mensalmente é de 3024 km. Calcule, em média, quantas vezes por mês o automóvel deve ser abastecido.

- A) 4
B) 5
C) 6
D) 7
E) 8

15. Quantas caixas de 40 cm de largura, 50 cm de comprimento e 20 cm de altura poderão ser armazenadas em uma sala retangular que mede 4 m de largura e 8 m de comprimento, sabendo-se que 5 % da área total da sala devem ser deixados como espaço livre para circulação e que a altura de empilhamento máximo é de 1,20m.

- A) 1140
B) 950
C) 760
D) 570
E) 190

16. Um prêmio de loteria será dividido entre seus acertadores de acordo com o número de acertos, conforme a tabela abaixo:

Número de acertos	Valor do prêmio (R\$)	Número de acertadores
6	500.000,00	2
5	50.000,00	54
4	500,00	13860

Analisar as assertivas a seguir:

- I – A razão entre o número de acertadores do prêmio de R\$500.000,00 para o prêmio de R\$50.000,00 é de 27.
II – O número de acertos é inversamente proporcional ao número de acertadores e ao valor recebido por cada acertador.
III – A razão entre os prêmios da tabela acima considerando os números de acertos 5 e 4 respectivamente é de 3/770.

Assinale a alternativa correta:

- A) I e II são verdadeiras.
B) I e III são verdadeiras.
C) II e III são verdadeiras.
D) Somente I é FALSA.
E) I e II são FALSAS.

17. Uma fábrica produz 216.000 pneus em 3 dias com 2 máquinas operando 8 horas por dia. Em quantos dias serão produzidos 324.000 pneus se a fábrica usar 3 máquinas funcionando 6 horas por dia?

- A) 3 dias.
B) 3,5 dias.
C) 4 dias.
D) 4,5 dias.
E) 5 dias.

18. Ao planejar a compra de carne para churrasco, estimou-se uma quantidade *per capita* de 250 g de picanha para mulheres e 350 g para homens. Sabendo-se que o quilograma da picanha custa em média R\$ 13,00, quanto será gasto em reais para comprar a carne (picanha) para 36 pessoas, sendo que 3/4 destas são homens?

- A) R\$ 128,70
B) R\$ 152,10
C) R\$ 168,50
D) R\$ 257,40
E) R\$ 351,00

19. A soma $(0,25 + 0,74 + 0,35 + 0,16)$ é igual a:

- A) 1/2
B) 5/2
C) 4/3
D) 5/3
E) 3/2

20. Analise as assertivas abaixo:

- I – Capital é o bem ou quantia em dinheiro sobre o qual há remuneração.
- II – Montante é o capital inicial adicionado ao juro do período.
- III – Taxa de juros é o tempo em que o capital será remunerado.

Assinale a alternativa correta:

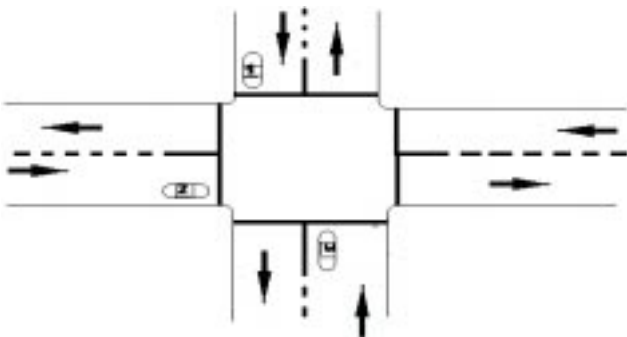
- A) Somente I é verdadeira.
 - B) Somente II é verdadeira.
 - C) Somente III é verdadeira.
 - D) I e II são verdadeiras.**
 - E) I e III são verdadeiras.
21. O mínimo múltiplo comum entre 3, 6 e 30, m.m.c.(3,6,30), é:
- A) 30**
 - B) 90
 - C) 120
 - D) 180
 - E) 540

22. Qual o perímetro de um terreno retangular que mede 12 metros de largura e 49 metros de comprimento?

- A) 61
- B) 98
- C) 122**
- D) 244
- E) 588

LEGISLAÇÃO DE TRÂNSITO

23. Considerando apenas os elementos constantes na figura abaixo, e tendo os veículos ali demonstrados chegado no cruzamento ao mesmo tempo, analise as afirmações abaixo e assinale a alternativa correta:

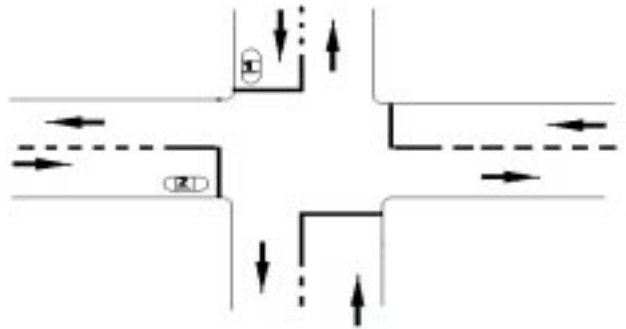


- I. Sendo ambas as vias urbanas, o veículo 2, pretendendo seguir em frente, possui preferência de passagem em relação ao 3.
- II. Caso somente a via pela qual transitam os veículos 1 e 3 se trate de uma rodovia, o veículo 1 terá preferência de passagem em relação ao 2.

- III. Caso somente a via pela qual transita o veículo 2 se trate de uma estrada, ele terá preferência de passagem em relação ao 3.
- IV. Caso o veículo 3 pretenda fazer uma conversão à esquerda, o veículo 1 terá que lhe dar preferência de passagem.

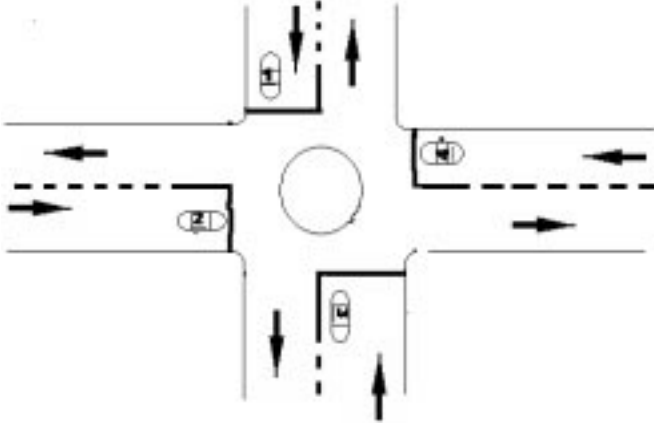
- A) As afirmações II e III estão corretas.
- B) Apenas a afirmação II está correta.**
- C) Apenas a afirmação III está correta.
- D) As afirmações I e IV estão corretas.
- E) Todas as afirmações estão corretas.

24. Analise a figura abaixo, a qual representa um cruzamento com sinalização semafórica que está com indicação luminosa em amarelo intermitente (amarelo piscante). Considerando que os veículos ali demonstrados chegaram no cruzamento ao mesmo tempo, assinale a alternativa correta:



- A) Caso somente a via por onde circula o veículo 1 seja rodovia, ele terá preferência de passagem em relação ao veículo 2.
- B) Em qualquer caso o veículo 1 terá preferência de passagem em relação ao veículo 2.
- C) Caso o veículo 2 pretenda fazer conversão à esquerda, deverá dar preferência de passagem ao veículo 1.
- D) No caso de ambas as vias se tratarem de via urbana, o veículo 2 terá preferência de passagem em relação ao veículo 1.**
- E) As alternativas A e D estão corretas.

25. A figura abaixo representa um cruzamento não sinalizado onde existe uma rotatória. Considerando que o veículo 1 iniciará a circular pela rotatória antes do veículo 2, o 2 antes do 3, e o 3 antes do 4, analise as afirmações que seguem e assinale a alternativa correta.



- I. O veículo 2, pretendendo convergir à direita, terá preferência em relação ao 1 que segue em frente na via por onde transita.
- II. O veículo 1, pretendendo seguir em frente na via por onde transita, terá preferência em relação ao 2.
- III. O veículo 3, pretendendo seguir em frente na via por onde transita, terá preferência em relação ao 2 que também segue em frente na via por onde transita.
- IV. O veículo 4, pretendendo seguir em frente na via por onde transita, terá preferência em relação ao 2 que contorna a rotatória.
- V. O veículo 2, pretendendo seguir em frente na via por onde transita, terá que dar preferência de passagem ao 3 que pretende convergir à direita.

- A) As afirmações I, III e IV estão corretas.
- B) As afirmações II e V estão corretas.**
- C) As afirmações I, II e IV estão corretas.
- D) As afirmações I e V estão corretas.
- E) Somente a afirmação V está correta.

26. Em relação aos silvos de apito emitidos pelos agentes de trânsito, é correto afirmar:

- A) Um silvo longo e um breve significam "pare".
- B) Dois silvos breves significam "siga".
- C) Um silvo breve significa "siga".
- D) Dois silvos breves significam "pare".
- E) As alternativas C e D estão corretas.**

27. Qual a ordem emitida por um agente de trânsito que está executando o seguinte gesto?



Braço levantado verticalmente, com a palma da mão para a frente.

- A) Parada obrigatória para todos os veículos.**
- B) Os veículos que se encontram de frente para o agente devem seguir.
- C) Diminuição de velocidade.
- D) Parada obrigatória somente para os veículos que venham de direção que corte ortogonalmente a direção indicada pelo braço do agente.
- E) Diminuição de velocidade somente para os veículos que não venham de direção que corte ortogonalmente a direção indicada pelo braço do agente.

28. Analise a seguinte situação:

João é um Policial Rodoviário Federal e, durante fiscalização no feriado de 15 de novembro de 2006, abordou os seguintes veículos:

- I. Veículo registrado em São Paulo, com placas CED 2122 e portando licenciamento de 2005;
- II. Veículo registrado em Minas Gerais, com placas KAK 0039 e portando licenciamento de 2005;
- III. Veículo registrado no Rio de Janeiro, com placas IJL 0100 e portando licenciamento de 2005;
- IV. Veículo registrado no Paraná, com placas ABC 4311 e portando licenciamento de 2005.

Com base nisso, independentemente do calendário de licenciamento dos respectivos DETRAN's, assinale a alternativa que representa as situações onde é possível concluir com certeza que o licenciamento estava vencido.

- A) Em todas as situações.
- B) Somente nas situações III e IV.
- C) Nas situações I, III e IV.
- D) Somente nas situações I e IV.**
- E) Somente nas situações II e III.

29. Sobre as categorias de habilitação é incorreto afirmar que:

- A) Para dirigir veículo motorizado de 2 ou 3 rodas, excluídos os ciclomotores, é necessária categoria A.
- B) Para dirigir veículo motorizado com mais de 3 rodas, cujo peso bruto total não exceda a 3.500 kg e cuja lotação não exceda a 8 lugares, excluído o motorista, é necessária categoria B ou superior.
- C) Para dirigir combinação de veículos cuja unidade acoplada, reboque, semi-reboque ou articulada tenha 6.000 kg ou mais de peso bruto total, ou cuja lotação exceda a 8 lugares, será sempre necessária a categoria E.
- D) Para dirigir veículo motorizado utilizado no transporte de passageiros, cuja lotação exceda a oito lugares, excluído o do motorista, é necessária categoria D ou superior.
- E) Para dirigir veículo motorizado utilizado em transporte de carga, cujo peso bruto total exceda a 3.500 kg, é necessária categoria C ou superior.

30. Analise a seguinte situação:

Numa determinada localidade foram falsificadas várias Carteiras Nacionais de Habilitação. Um agente de trânsito abordou três condutores (I, II e III), todos com 20 anos de idade, os quais apresentaram:

- I. Habilitação compatível para a condução de veículo de transporte de passageiros, cuja lotação exceda a oito lugares, excluído o do motorista.
- II. Habilitação compatível para a condução de um automóvel rebocando um trailer.
- III. Habilitação compatível para a condução de veículo de carga, cujo peso bruto total seja 4 toneladas.

Em relação a quais condutores o agente pode ter certeza que a habilitação é uma daquelas falsas?

- A) Somente em relação ao I.
- B) Somente em relação ao II.
- C) Somente em relação ao III.
- D) Em relação ao I e ao II.
- E) Em relação ao II e ao III.

31. Assinale a afirmação correta:

- A) Após ser autuada a infração, caso o infrator não tenha sido notificado no próprio Auto de Infração, deverá ser expedida, no prazo máximo de 20 dias, Notificação de Autuação.
- B) Sendo constatado por um agente de trânsito o cometimento de uma infração, este deverá aplicar a multa.
- C) Para recorrer à JARI é necessário recolher previamente o valor da multa.
- D) Sendo autuada uma infração de excesso de velocidade cometida na condução de veículo de sua propriedade, a CELEPAR terá 30 dias de prazo para apresentar o condutor infrator, caso o mesmo já não tenha sido identificado no próprio Auto de Infração.
- E) Após ser aplicada a multa, deverá ser expedida Notificação de Penalidade, onde, dentre outros, deverá constar a data do término do prazo para apresentação de recurso.

32. Quanto ao fato de dirigir sob a influência de álcool, afirma-se:

- I. É uma infração grave.
- II. Prevê a penalidade de Suspensão do Direito de Dirigir.
- III. Prevê a medida administrativa de retenção do veículo até a apresentação de condutor habilitado.
- IV. É crime de trânsito, caso exponha a dano potencial a incolumidade de outrem.
- V. É causa de aumento de pena nos crimes de trânsito de praticar homicídio culposo na direção de veículo automotor e de praticar lesão corporal culposa na direção de veículo automotor.

Quais as afirmações são corretas?

- A) Todas.
- B) I, II, III e IV.
- C) II, III, IV e V.
- D) I, III, IV e V.
- E) I, II, IV e V.

DIREÇÃO DEFENSIVA

33. Você está num cruzamento não sinalizado, de pouco movimento e sem visibilidade, em bairro residencial, durante o dia. Nessa situação, a conduta defensiva correta é:

- A) Buzina e segue em frente.
- B) Segue em frente, buzinando e piscando os faróis.
- C) Pára e só atravessa com a certeza de que não haja risco de acidente.
- D) Reduz a velocidade e atravessa tocando levemente a buzina.
- E) Reduz a velocidade, pisca os faróis e atravessa.

34. O motorista defensivo, ao se aproximar de uma curva acentuada, deve:

- A) Aumentar a velocidade antes de chegar na curva.
- B) Pisar no freio durante a manobra.
- C) Acelerar fortemente na curva.
- D) Diminuir a velocidade, antes de chegar na curva.
- E) Pisar no freio e na embreagem durante a manobra.

35. Durante uma chuva forte o limpador de pára-brisa de seu veículo não está sendo suficiente para manter a visibilidade. Nessa situação a conduta defensiva correta é:

- A) Aciona o pisca - alerta.
- B) Abre as janelas para aumentar a ventilação interna.
- C) Liga os faróis baixos.
- D) Liga os faróis altos.
- E) Pára o veículo em local seguro e aguarda diminuir a intensidade da chuva.

36. Para evitar uma possível colisão com o veículo que segue à sua frente, a atitude defensiva mais importante é:
- A) Manter a velocidade constante.
 - B) Manter a distância constante.
 - C) Ultrapassar o veículo sempre que possível.
 - D) Olhar a cada 5 segundos o espelho retrovisor.
 - E) Manter distância compatível com a velocidade.
37. Sendo necessário dirigir com forte neblina, o condutor deve acender:
- A) O farol baixo.
 - B) O pisca - alerta.
 - C) O farol alto.
 - D) As luzes internas.
 - E) O farol baixo e o pisca - alerta.
38. Em uma via com chuva forte e pista molhada, de repente o veículo perde a aderência à pista, ocorrendo o fenômeno da aquaplanagem. A conduta correta nessa situação é:
- A) Frear suavemente o veículo, acionando as luzes de emergência (pisca-alerta)..
 - B) Frear o veículo bruscamente para restabelecer a aderência do pneu com a pista.
 - C) Acelerar o veículo, segurando firmemente a direção.
 - D) Acelerar e soltar a direção, para que o veículo retome sozinho a sua trajetória.
 - E) Tirar o pé do acelerador, segurando firmemente a direção.
39. Em uma passagem de nível, a atitude correta do condutor de um automóvel é:
- A) Efetuar a travessia, apenas reduzindo bastante sua velocidade.
 - B) Parar o veículo, acender os faróis e efetuar a travessia.
 - C) Parar o veículo, olhar para ambos os lados, escutar se não há aviso sonoro e efetuar a travessia com segurança.
 - D) Parar o veículo, buzinar e efetuar a travessia.
 - E) Fazer a travessia seguindo sua marcha normal.
40. Analise as seguintes afirmações sobre o cinto de segurança e assinale a alternativa correta:
- I. Um adulto e uma criança de colo podem usar o mesmo cinto ao mesmo tempo.
 - II. A função do cinto de segurança é evitar que os ocupantes do veículo sejam lançados para frente ou para fora do veículo.
 - III. Duas crianças podem usar o mesmo cinto ao mesmo tempo.
 - IV. Gestantes não precisam usar o cinto.
- A) Todas as afirmações estão corretas.
B) Somente a afirmação II está correta.
C) Somente as afirmações I e III estão corretas.
D) Somente a afirmação IV está correta.
E) Somente as afirmações II e IV estão corretas.
41. Ao notar que um veículo pretende ultrapassá-lo, a atitude defensiva correta do condutor é:
- A) Frear, reduzindo bastante a velocidade.
 - B) Deslocar-se mais para a direita, facilitando a ultrapassagem.
 - C) Parar o veículo, para possibilitar a ultrapassagem.
 - D) Acelerar a marcha.
 - E) Permanecer na faixa da esquerda, mantendo sua velocidade de marcha.
42. Ao transitar à noite em uma via, você é ofuscado pela luz alta de um veículo que transita em sentido contrário. Nessa situação a atitude defensiva correta a ser tomada é:
- A) Aumentar a velocidade e solicitar luz baixa, com breves toques de luz alta.
 - B) Aumentar a velocidade e solicitar luz baixa, com o acionamento da luz alta permanente.
 - C) Revidar a luz alta, mantendo a marcha.
 - D) Reduzir a velocidade e solicitar luz baixa do outro veículo, com breves toques de luz alta.
 - E) Parar o veículo e esperar que o outro passe.

MECÂNICA BÁSICA

43. O sistema de arrefecimento é responsável por qual função no motor?
- A) Aumento do calor
 - B) Diminuição do calor
 - C) Redução dos níveis de poluição
 - D) Lubrificação do motor
 - E) Controlar a quantidade de ar durante o processo de combustão
44. Os amortecedores têm por função:
- A) Evitar o atrito dos pneus com o solo.
 - B) Auxiliar a mudança de direção nas curvas.
 - C) Reduzir os movimentos bruscos e prolongados das molas.
 - D) Aumentar a vida útil dos pneus.
 - E) Auxiliar o sistema de freio.
45. O balanceamento das rodas do veículo é de fundamental importância para:
- A) Fixar firmemente o pneu no aro.
 - B) Facilitar a troca do pneu, se necessário
 - C) Evitar vibração do volante.
 - D) Reduzir significativamente o consumo de óleo do motor.
 - E) Melhorar o alinhamento da direção do veículo.
46. Quais os cuidados que se deve ter com relação ao óleo lubrificante?
- A) Verificar o nível do óleo lubrificante periodicamente, completando, se necessário.
 - B) Utilizar óleos de alta viscosidade.
 - C) Trocar o óleo lubrificante no período especificado pelo fabricante.
 - D) As alternativas B e C estão corretas.
 - E) As alternativas A e C estão corretas.
47. O óleo lubrificante tem como funções:
- A) Lubrificar, umedecer e oxigenar o motor.
 - B) Lubrificar, limpar e proteger o sistema de arrefecimento, evitando a formação de substâncias corrosivas existentes no ar.
 - C) Lubrificar as partes fixas do motor, evitando vibrações e oxidação das superfícies expostas.
 - D) Lubrificar, refrigerar, limpar e manter limpo, proteger contra corrosão e auxiliar na vedação da câmara de combustão.
 - E) Lubrificar as partes móveis do motor, evitando vibrações e viscosidade.

PRIMEIROS SOCORROS

48. Sendo a primeira pessoa a presenciar um acidente de trânsito com vítimas, qual a ordem correta das ações que você deve tomar?
- A) Resgatar as vítimas; Isolar e sinalizar a área; Avaliar o estado das vítimas; Chamar o resgate.
 - B) Isolar e sinalizar a área; Chamar o resgate; Remover as vítimas para a calçada ou acostamento.
 - C) Chamar imediatamente o resgate; Avaliar o estado das vítimas; Remover as vítimas para a calçada ou acostamento; Isolar e sinalizar a área.
 - D) Isolar e sinalizar a área; Avaliar o estado das vítimas; Chamar o resgate.
 - E) Avaliar a situação; Socorrer imediatamente os feridos; Remover as vítimas para a calçada ou acostamento; Chamar o resgate.
49. Se uma vítima apresentar uma fratura exposta, o que se deve fazer?
- A) Garrotear o membro, usando um torniquete.
 - B) Fazer uma compressão, recolocando o osso exposto no lugar.
 - C) Imobilizar o membro fraturado.
 - D) Puxar o membro, forçando o osso fraturado a voltar ao lugar.
 - E) Lavar com água bem gelada, até que chegue auxílio.
50. Que procedimento não deve ser feito em um acidente de trânsito, se não houver perigo iminente para a vítima ou para o socorrista?
- A) Chamar socorro ou regate.
 - B) Sinalizar o local.
 - C) Solicitar ajuda.
 - D) Remover imediatamente a vítima das ferragens.
 - E) Tentar tranquilizar a vítima.